




نام و نام خانوادگی : کلاس : دبیر: محمودی آذر		معاونت اداره کل و مدیریت آموزش و پرورش شهرستان مراغه دور اول متوسطه آزمون مطالعات اجتماعی نهم نوبت اول دبیرستان پویندگان		وقت آزمون : ۶۰ دقیقه تاریخ آزمون : ۱۴۰۱/۱۰/۱۲ شماره صندلی : <input type="text"/> ساعت آزمون : ۹:۳۰	
فصل اول	۱	چهارسیاره نزدیک به خورشید از گازهای مختلف تشکیل شده است.	<input type="checkbox"/> غلط <input type="checkbox"/> صحیح	۰/۵	
	۲	همه کشورهایی که بر روی یک نصف النهار هستند زمان رسمی یکسانی دارند.	<input type="checkbox"/> غلط <input type="checkbox"/> صحیح	۰/۵	
	۳	رها امسال دانش آموز کلاس اول ابتدایی است، اولین روز حضور رها در مدرسه (شروع سال تحصیلی)، همزمان با کدام یک از وقایع زیر است؟ الف- انقلاب تابستان <input type="checkbox"/> ب- انقلاب زمستانی <input type="checkbox"/> ج- اعتدال بهاری <input type="checkbox"/> د- اعتدال پاییزی <input type="checkbox"/>		۰/۵	
	۴	در تصویر مقابل (انقلاب تابستانی)، در نیکره شمالی، کره زمین را نشان دهید؟ راهنمایی: (طول شب و روز در نیمکره شمالی چگونگی تابش خورشید روی تصویر نشان دهید)		۲	
فصل دوم	۱	لیتوسفر شامل اقیانوس ها، دریا ها، دریاچه ها و بقیه آب ها می شود.	<input type="checkbox"/> غلط <input type="checkbox"/> صحیح	۰/۵	
	۲	معمولا منابع نفت و گاز و جزایر صید ماهی در کدام قسمت ناهمواری اقیانوسها یافت می شوند؟ الف - شیب قاره <input type="checkbox"/> ب- دشت اقیانوسی <input type="checkbox"/> ج- فلات قاره <input type="checkbox"/> د- گودال اقیانوسی <input type="checkbox"/>		۰/۵	
	۳	سه عوامل موثر بر آب و هوای جهان را بنویسید؟		۱/۵	
	۴	خصوصیات تصویر های زیر را بنویسید؟  	شکل (۲) شکل (۱)	۱	
فصل سوم	۱	هر کدام از زیست بوم های زیر با کدام توضیح مرتبط است. (یک مورد اضافی است) (تایگا، ساوان، بیابان، توندرا، جنگل بارانی استوایی) - این زیست بوم در مجاورت خط استوا در چند قاره گسترده است..... - از نظر پوشش گیاهی بسیار فقیرند و یکی از حیوانات آن مارمولک خاردار است..... - این ناحیه به داشتن جنگل های مخروطیان و سوزنی برگ ها معروف است..... - فقط گیاهانی چون خزه و گل سنگ می تواند در این منطقه می رویند.....		۲	

۱	اهمیت جنگل های بارانی استوایی را بنویسید؟ دو مورد	۲									
۰/۵	از مهم ترین عواملی که باعث تخریب زیستگاه ها در جهان می شوند را بنویسید؟	۳									
۰/۵	خانواده ی محمد چند سال پیش به خاطر حضور داعش، در عراق به ایران آمدند نوع مهاجرت این خانواده چیست؟ الف - داخلی - اجباری <input type="checkbox"/> ب - داخلی - اختیاری <input type="checkbox"/> ج - خارجی - اجباری <input type="checkbox"/> د - خارجی - اختیاری <input type="checkbox"/>	۱	فصل چهارم								
۱	ملاک توسعه انسانی عبارت است از : ۱- درآمد و رفاه ..... ۲- ..... ۳- .....	۲									
۲	به نظر شما چرا آینده کشورهایی که دارای رشد منفی جمعیت دارند، نگران کننده است؟ دو مورد	۳									
۱	جملات را به دقت بخوانید و در مقابل جملات الف از ستون ب انتخاب کنید و بنویسید. یک مورد اضافی است	۱	فصل پنجم								
	<table border="1"> <thead> <tr> <th>ستون الف</th> <th>ستون ب</th> </tr> </thead> <tbody> <tr> <td>مذهب شیعه را رسمی کرد.....</td> <td>۱- شاه تهماسب</td> </tr> <tr> <td>حکومت صفوی را به اوج قدرت خود رساند.....</td> <td>۲- شاه اسماعیل</td> </tr> <tr> <td></td> <td>۳- شاه عباس اول</td> </tr> </tbody> </table>	ستون الف	ستون ب	مذهب شیعه را رسمی کرد.....	۱- شاه تهماسب	حکومت صفوی را به اوج قدرت خود رساند.....	۲- شاه اسماعیل		۳- شاه عباس اول		
ستون الف	ستون ب										
مذهب شیعه را رسمی کرد.....	۱- شاه تهماسب										
حکومت صفوی را به اوج قدرت خود رساند.....	۲- شاه اسماعیل										
	۳- شاه عباس اول										
۱	عالمان و فیلسوفان دوره صفوی را نام ببرید؟ (دو مورد)	۲									
۱	از عوامل گسترش تجارت در عصر صفوی را بنویسید؟ دو مورد	۳									
۰/۵	به موجب قرارداد..... ایران در دوره قاجار از حق کشتیرانی در دریای مازندران محروم شد الف - گلستان <input type="checkbox"/> ب - ترکمانچای <input type="checkbox"/> ج - مفصل <input type="checkbox"/> د - پاریس <input type="checkbox"/>	۱	فصل ششم								
/۵	نهضت..... ، نخستین حرکت جدی مردم ایران برای رهایی از نفوذ و سلطه خارجی و ایستادگی در برابر ستم داخلی بود . ( تنباکو - مشروطه )	۲									
۰/۵	من کیستم؟ ((فعالیت های علمی و فرهنگی را در شیراز رونق دادم ، به رفاه عمومی توجه کردم و کوشیدم از بروز نا امنی و شورش داخلی جلوگیری کنم، دوران فرمانروایی من سی سال طول کشید))	۳									
۰/۵	یکی از اقدامات این شخص ، تأسیس مدرسه ی دارالفنون بود.	۴									
۱	یکی از هدف های اصلی انگلستان از برقراری ارتباط با حکومت قاجار چه بود؟	۵									

# جزوه سیپی